



Karta pracy 6a

.....
imię i nazwisko

.....
lp. w dzienniku

.....
klasa

.....
data

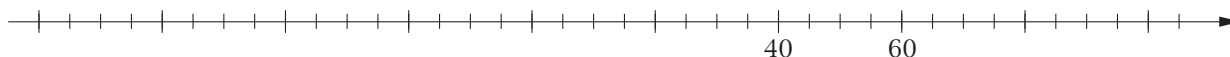
1. Wstaw znak $<$ lub $>$:

a) -12 4 b) -6 -10 c) 0 -7 d) -46 -64

2. Uporządkuj liczby w kolejności od najmniejszej do największej.

-2 0 $|-3|$ $-|4|$ $-|-5|$ $|8|$

3. Zaznacz na poniższej osi liczbowej liczby: 0 , 15 , -40 , -35 , -50 .

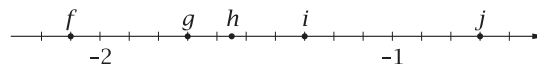
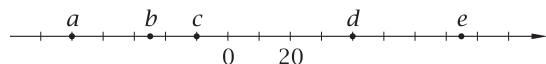


4. Dokończ zdania. Wybierz właściwe odpowiedzi spośród A lub B oraz C lub D.

Na prawo od liczby -5 na osi liczbowej znajdziemy A. -6 B. -4
liczbę

Liczbą mniejszą od -80 jest liczba C. $-79,99$ D. $-80,01$

5. Odczytaj, jakie liczby zaznaczono na osiach liczbowych.



6. Oblicz:

a) $(-17) + 23 =$ d) $(-56) + (-34) =$
b) $(-32) + 46 =$ e) $(-35) - 24 =$
c) $18 - 24 =$ f) $(-24) - (-18) =$

7. W piątek temperatura wynosiła -11°C , a w sobotę była o 3°C niższa. Jaka temperatura była w sobotę? Zapisz odpowiednie działanie.

8. Uzupełnij zdania odpowiednimi liczbami z ramki.

a) Suma liczb -58 i 39 jest równa

b) Gdy od liczby -58 odejmiemy 39 , to otrzymamy

87	-19
19	-97

9. Suma liczb -4 i -3 jest równa:

A. -1 B. -7 C. 7 D. 1