


Zapamiętaj!

Kwadrans to 15 minut

2 kwadransy to pół godziny -30 minut

Sprawdź ile **kwadransów** ma pełna godzina. Na tarczy zegara, każdy kwadrans zamaluj innym kolorem. Uzupełnij zdanie.



Pełna godzina ma..... kwadransy.

2. Policz ile kwadransów minęło. Połącz w pary odpowiednie zapisy.

Do wykonania tego ćwiczenia przygotuj tarczę zegara, którą masz w teczce.

Od godziny 10:00 do godziny 10:15

2 kwadransy

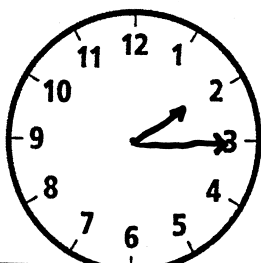
Od godziny 12:15 do godziny 12:30

3 kwadransy

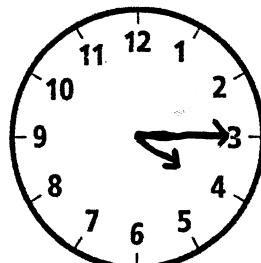
Od godziny 6:00 do godziny 6:45

1 kwadrans


3. Odczytaj podane godziny na zegarach (w systemie 24 –godzinnym)




.....



.....



.....



.....