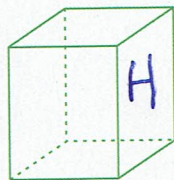
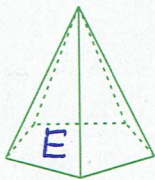
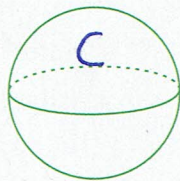
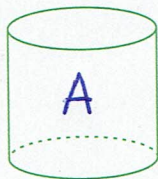
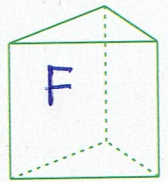
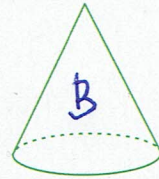
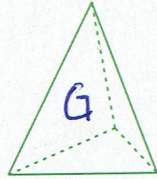
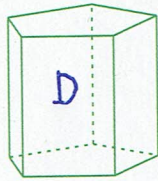




Rozpoznawanie figur przestrzennych

1. Oznacz bryły literami zgodnie z legendą.



(A) - walec

(B) - stożek

(C) - kula

(D) - graniastosłup pięciokątny

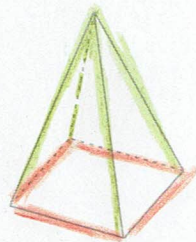

(E) - ostrosłup pięciokątny

(F) - graniastosłup trójkątny

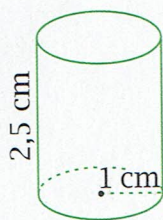
(G) - ostrosłup trójkątny

(H) - graniastosłup czworokątny


2. Zaznacz na rysunkach graniastosłupa trójkątnego i ostrosłupa czworokątnego krawędzie podstawy kolorem czerwonym, a krawędzie boczne kolorem zielonym.




3. Na którym rysunku przedstawiono widok walca z góry, a na którym — z boku?



rys. A



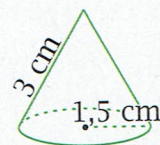
rys. B



Widok walca z góry — rys. B

Widok walca z boku — rys. A

4. Na którym rysunku przedstawiono widok stożka z boku, a na którym — z dołu?



rys. A



rys. B



Widok stożka z boku — rys. B

Widok stożka z dołu — rys. A