

Anita, Dominik, Eryk, Grzesiu, Jakub

Ćwiczenie 1

Proszę dokończyć wyrazy: nazwy części ciała i narządy wewnętrzne.

rę –

no –

sto –

pal –

pię –

szy –

gło –

bro –

czo –

kola –

kost –

ud –

włó –

paz –

kciu –

us –

no –

zę –

ję –

poli –

łok –

ram –

ok –

rzę –

skro –

tyd –

wąt –

ner –

płu –

zoł –

trzu –

ser –

Ćwiczenie 2

Proszę wykreślić wszystkie cyfry „7”.

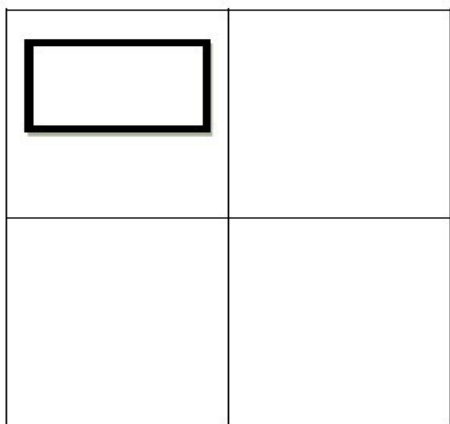
M 8 6 6 7 4 9 G 3 A 2 N 9 6 7 7 4 3 D 2 3 2 3 S
4 0 8 7 4 1 N 8 6 6 L O K 8 H 6 L L 9 B 6 3 4 2
1 A 8 9 5 3 4 3 2 0 9 8 7 6 5 4 3 2 6 6 5 7 3 5 5
6 3 9 8 7 9 0 7 9 9 9 6 6 6 4 3 2 1 S 1 H 7 9 8 0
6 0 0 5 6 7 5 7 6 1 2 1 3 1 4 2 5 3 6 5 4 0 9 0 7
8 6 0 5 9 4 3 6 3 5 8 7 G 8 8 9 H 6 4 3 C 3 W 2
1 8 7 6 9 7 6 4 F 3 F D 2 S 2 9 7 0 6 5 3 4 2 W 6
N 8 6 N 5 0 9 K 8 H 6 4 8 5 2 9 2 4 3 6 5 0 9 7
8 5 6 1 3 2 7 4 5 3 6 1 0 9 8 3 6 M 4 5 3 1 2 3 2
4 5 2 3 5 0 9 7 5 4 6 6 8 7 6 4 2 4 5 D D 0

Znajdź 10 elementów, którymi różnią się rysunki.

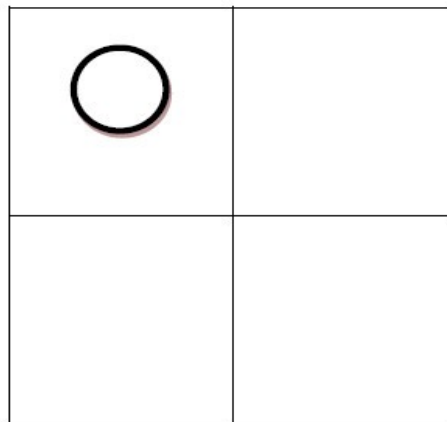


Narysuj odbicia lustrzane.

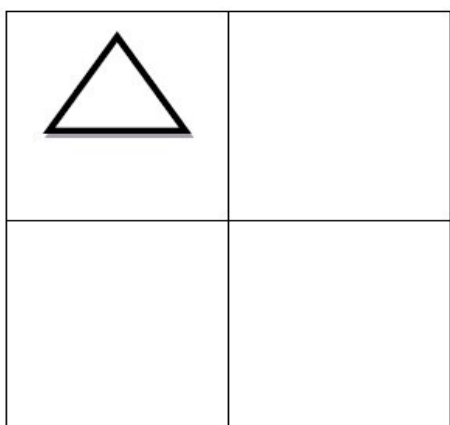
a)



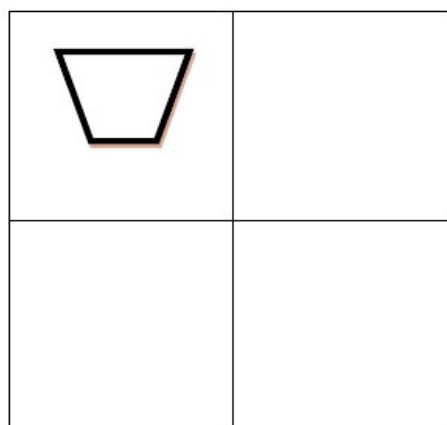
b)




c)



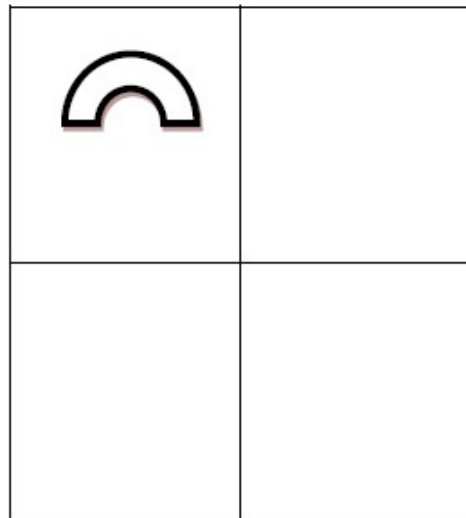
d)



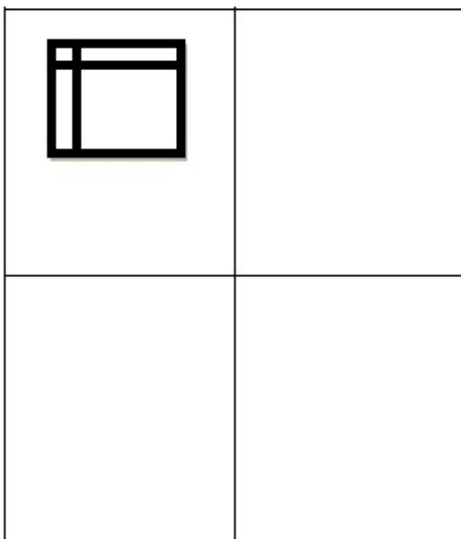
e)



f)



g)



h)

